



# MUNICÍPIO DA ESTÂNCIA BALNEÁRIA DE PRAIA GRANDE

Estado de São Paulo  
SEDUC - Secretaria de Educação

SEMANAS 3 e 4

## SALA DE AULA




Disciplina: Matemática

2º ano do Ensino Fundamental

1- ESCREVA EM SEU CADERNO, A QUANTIDADE DE QUADRINHOS REFERENTES A IDADE DE CADA CRIANÇA:



LÚCIA



CAIO



MARI



PEDRO

LÚCIA

CAIO

MARI

PEDRO

2- RESPONDA EM SEU CADERNO:

A) QUAL SAQUINHO TÊM MAIS ROSQUINHAS: 1 OU 2?

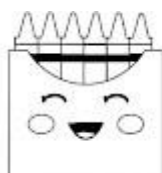


1

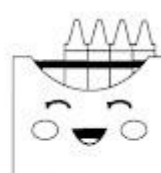


2

B) QUAL CAIXA TÊM MENOS GIZ DE CERA: 1 OU 2?





1




2

3- DESENHE ATÉ COMPLETAR A QUANTIDADE DOS NUMERAIS INDICADOS EM SEU CADERNO:

	<b>11</b> ONZE
	<input type="text"/>

	<b>15</b> QUINZE
	<input type="text"/>

	<b>13</b> TREZE
	<input type="text"/>

4- ESCREVA OS NÚMEROS VIZINHOS EM SEU CADERNO:

<input type="text"/>	8	<input type="text"/>
----------------------	---	----------------------

<input type="text"/>	2	<input type="text"/>
----------------------	---	----------------------

<input type="text"/>	4	<input type="text"/>
----------------------	---	----------------------


<input type="text"/>	10	<input type="text"/>
----------------------	----	----------------------

5- OBSERVE O CONJUNTO E RESPONDA EM SEU CADERNO:

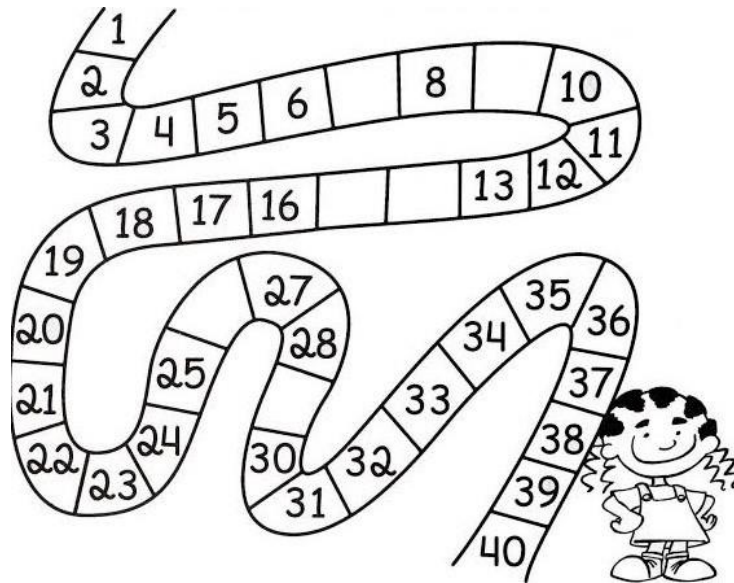
A) QUANTOS ABACAXIS?

B) QUANTAS MAÇÃS?


C) QUANTAS FRUTAS AO TODO?



6- ESCREVA EM SEU CADERNO OS NÚMEROS QUE ESTÃO FALTANDO:



7- OBSERVE AS FORMAS GEOMÉTRICAS E RESPONDA EM SEU CADERNO O QUE SE PEDE:




CÍRCULO



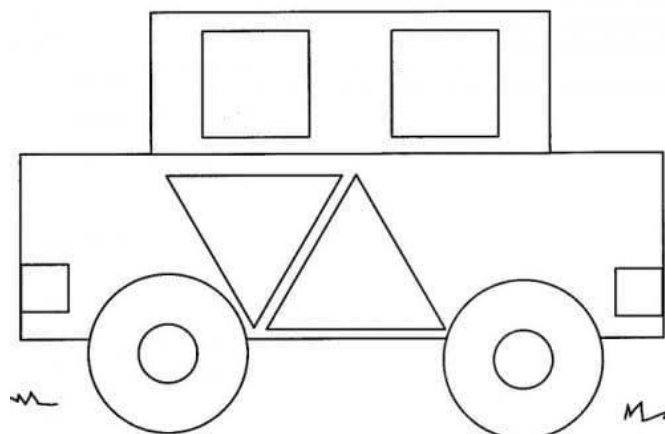
QUADRADO



RETÂNGULO



TRIÂNGULO



A) QUANTOS CÍRCULOS HÁ NO DESENHO?

B) QUANTOS TRIÂNGULOS?

C) QUANTOS QUADRADOS?

D) QUANTOS RETÂNGULOS?